


一、選擇題：每題 2 分，共 80 分

1. 北宋在一場對外戰爭中，皇帝御駕親征，結果「諸軍皆呼萬歲，聲聞數十里，氣勢百倍」，最後交戰雙方達成停戰協議。請問：關於這場戰役的敘述，下列何者正確？
(A)戰爭的對象是女真人 (B)御駕親征的皇帝是宋真宗
(C)戰後兩國約為君臣之國，宋朝每年支付歲幣 (D)盟約簽訂不久，雙方立刻又陷入戰爭狀態。
2. 元朝結束五代以來多民族政權並立的局面，但統治中國卻僅九十年之久。請問：下列有關元朝滅亡的原因，何者「錯誤」？
(A)實施種族歧視政策，引發漢人不滿 (B)忽必烈得位不正，之後帝位紛爭不斷 (C)各地災荒連年，人民無以維生 (D)沿海倭寇侵擾，國內流寇劫掠。
3. 隨著商業經濟活動的熱絡，貿易範圍的擴大，原本在商業上使用的銅錢顯得過於笨重，不利於貿易活動的進行，因此地方上的商人便自行發明紙幣，使交易變得更為簡便。請問：中國歷史上最早的紙幣是下列何者？
(A)飛錢 (B)寶鈔 (C)交子 (D)會子。
4. 小君在圖書館看見一本記載了宋元時期科技成就的書。請問：書中可能出現以下哪一項敘述？
(A)宋元時期火藥被廣泛運用於戰爭，後由阿拉伯人傳至歐洲 (B)宋應星的《天工開物》是研究宋代以前中國古代科技的重要著作
(C)北宋畢昇發明活字版印刷術，有助於教育與文化的推廣 (D)指南針在宋朝普遍用於航海，後由蒙古人傳到歐洲。
5. 明朝曾七次派遣鄭和下西洋，使鄭和的足跡踏遍了東南亞及印度洋一帶，最遠還到達非洲東岸地區。請問：鄭和下西洋的行動帶來最大的影響為何？
(A)引進美洲的番薯、馬鈴薯，紓解明朝人口壓力 (B)使中國解除海禁，積極對外進行貿易活動
(C)奠定華僑日後在東南亞發展的基礎 (D)造成中國佛教、道教的外傳。
6. 「吳三桂在雲南起兵叛清，靖南王耿精忠、平南王尚可喜之子尚之信先後響應，後來因為無法得到漢人支持，加上彼此無法真心合作，終於失敗。」請問：當時平定這場亂事的是哪位皇帝？
(A)康熙 (B)乾隆 (C)雍正 (D)皇太極。
7. 歷代君主常會針對以往朝代的弊病而進行改革，以免重蹈覆轍。請問：下列的各項措施或改革，何者符合這樣的說法？
(A)宋太祖鑑於唐末以來藩鎮割據之害，而採取強幹弱枝政策 (B)南宋末年鑑於靖康之禍的恥辱，而採取聯蒙古滅金的策略
(C)明太祖鑑於八王之亂，而分封諸子為王 (D)明成祖鑑於唐代宦官亂政，而成立東廠監控臣民。
8. 宋神宗與明神宗時均有朝臣針對朝政弊病推行變法或改革。請問：關於這兩者的共同之處，下列敘述何者正確？
(A)兩者改革的背景皆因宦官干政，朝廷風氣敗壞 (B)兩者改革均重視財政問題的解決
(C)兩者變法均引起黨爭，使朝政敗壞 (D)兩者改革均因人亡政息而失敗。
9. 清初入關之後，陸續平定叛亂，一步步完成國家的統一。請問：若將下列事件依發生時間排列，其順序為何？
(甲)攻克臺灣 (乙)平定流寇 (丙)平定三藩之亂 (丁)消滅南明政權
(A)甲丙乙丁 (B)乙丁丙甲 (C)丙乙甲丁 (D)丁乙丙甲。

10. 科舉考試在中國有一千多年的歷史，是隋唐以後選才任官的主要途徑。請問：關於歷代科舉考試的敘述，下列哪一項內容「錯誤」？
(A)宋代科舉錄取名額較唐代增加，促進社會階級的流動 (B)元代科舉以「四書集注」為考試的定本
(C)明清科舉考試的內容以四書與五經為範疇 (D)明清科舉的八股文，可讓讀書人發揮個人的見解。
11. 明初原以紙幣、銅錢為主要貨幣；但明中葉以後，中國的貨幣開始以白銀與銅錢為主。請問：造成明代貨幣制度改變的主要原因為何？
(A)美洲白銀的大量流入中國 (B)市舶司貿易日益興盛
(C)明代實施海禁政策 (D)朝貢貿易帶來的影響。
12. 明朝末年，天災不斷，大批的災民與饑兵相結合，到處搶掠。請問：後來何人攻陷北京，導致明朝滅亡？
(A)李自成 (B)吳三桂 (C)張獻忠 (D)皇太極。
13. 下圖為北宋官員與兵額的數量演變圖。請問：關於此演變圖的解釋，下列何者「錯誤」？
(A)宋朝因實施「文人政治」，造成官員人數增加 (B)宋朝因採取「重武輕文」政策，造成兵額人數節節升高
(C)此冗官、冗兵問題造成北宋財政負擔 (D)此財政問題成為王安石變法的背景之一。



14. 宋朝的理學融合了中國多種思想，影響中國人非常深遠。請問：宋代理學融合了哪些思想？
(A)儒學、墨家、法家 (B)儒學、道家、法家
(C)佛教、儒家、墨家 (D)佛教、道家、儒學。
15. 中國歷史上的「宰相」一直扮演著「一人之下，萬人之上」的崇高角色，一方面負責推動行政事務，另一方面又能制衡君權。請問：中國哪位君主廢除了宰相，使君主的權力獨大，君主專制達到極盛？
(A)宋太祖 (B)元世祖 (C)明太祖 (D)明成祖。
16. 阿興是明朝的徽州商人，他常往來各大城市經商，不僅沒有食宿的煩惱，還可以獲得同鄉的友情相助。請問：這種現象和哪種場所的出現有關？
(A)會館 (B)驛站 (C)市舶司 (D)洋行。
17. 明清的士紳階級在地方上享有某些特權，同時政府也仰賴他們協助處理地方事務，具有相當程度的影響力。請問：若想要具備士紳階級這種特殊身分，應該如何取得？
(A)父祖必須具有士紳階級的身分 (B)投入士紳階級門下為弟子
(C)通過科舉考試，取得功名 (D)努力經商，成為大富豪。
18. 北宋滅亡後，宋高宗南遷，史稱南宋。面對敵人的威脅，朝廷出現主戰與主和兩派不同意見，宋高宗最後採行哪一項決策？
(A)鼓勵通婚，民族融合 (B)聯蒙古滅金
(C)宋金和議，停止北伐 (D)下詔北伐，收復汴京。

- 19.阿平是一位生活在北宋時期的農夫，他常跟家人說：「幸虧有這種新作物的引進，擴大了糧食的種植面積和產量，糧食的供應才能充足，才能養活家裡這麼多的人。」請問：上述的新作物應該是指下列何者？ (A)馬鈴薯 (B)玉米 (C)番薯 (D)早熟稻。
- 20.關於「永嘉之禍」與「靖康之禍」的比較，下列敘述何者「錯誤」？ (A)前者為匈奴人攻陷洛陽，後者為契丹人攻陷汴京 (B)前者使西晉滅亡，後者使北宋亡國 (C)兩者皆造成國家領土往南遷移，偏安南方 (D)兩事件之後，北方皆出現外族建立的政權。
- 21.張擇端的《清明上河圖》描繪出汴京城在清明時節各階層的生活景象，具有極大的研究價值。請問：《清明上河圖》所呈現的社會風貌主要為下列何者？ (A)宋代社會可容納各種民族文化，而呈現多元色彩 (B)西域文化傳來的文化，對宋代社會經濟影響很大 (C)宋代商業經濟十分發達，城市生活風貌多彩多姿 (D)元朝在各地廣設驛站，促進歐亞之間貿易的流通。
- 22.王安石變法的內容雖多能切中時弊，但最後卻仍以失敗告終，導致北宋政局更加紛擾不安。請問：王安石變法失敗的主要原因為何？ (A)新法朝令夕改，百姓無所適從 (B)皇帝不支持王安石的改革 (C)外患加劇，改革被迫停止 (D)守舊派人士不支持變法。
- 23.明朝建立之後，國家面臨的外患不斷，請問：明朝面臨的主要外患有哪些？ (甲)契丹 (乙)蒙古 (丙)女真 (丁)流寇 (戊)倭寇 (A)甲乙丁 (B)乙丙丁 (C)乙丙戊 (D)乙丁戊。
- 24.清朝入關後厚葬明思宗帝后、重用投降的明朝官員，但另一方面又殘酷地鎮壓抗清民眾、嚴禁漢人立盟結社。請問：清朝統治漢人的策略為何？ (A)實施種族政策，致力於打壓漢人 (B)對漢人軟硬兼施、懷柔與高壓並行 (C)完全信任漢人，將國家大事交給漢人處理 (D)將所有與明朝有關的事物一律消滅。
- 25.「隨著手工業日漸發達，出現許多專業市鎮，如江西景德鎮以生產瓷器聞名全國，江蘇盛澤鎮則以生產絲綢聞名天下。」請問：上述應是哪一個朝代開始出現的現象？ (A)唐朝 (B)宋朝 (C)元朝 (D)明朝。
- 26.小君和同學討論到某個朝代的讀書人，她說：「從這個時代開始，讀書人有強烈的社會責任感，他們不但『以國家興亡為己任』，而且『先天下之憂而憂』，形成一種『士大夫文化』。」請問：小君和同學討論的朝代為何？ (A)唐代 (B)宋代 (C)明代 (D)清代。
- 27.小恩想要撰寫有關宋代商業繁榮景象的報告，請問：這篇報告的內容應提到下列哪些事物？(甲)夜市的出現(乙)紙幣的使用(丙)驛站的設立(丁)坊市制度的廢除(戊)商幫組織的形成 (A)甲乙丙丁戊 (B)甲乙丁戊 (C)甲乙丁 (D)丙戊。
- 28.唐、宋、明三朝的黨爭，雖然起因不同，但都對國家造成嚴重的影響。請問：關於這些黨爭的敘述，下列何者「錯誤」？ (A)「牛李黨爭」是發生在安史之亂後的朝廷亂象 (B)「新舊黨爭」是因王安石變法而引起 (C)「東林黨爭」導致張居正變法的失敗 (D)黨爭的結果皆導致政治惡化、國家衰弱。

- 29.小君在圖書館閱讀一本書籍，內容包括農業、冶礦、鑄造、紡織、造紙、印刷、食品加工等生產技術，並搭配許多插圖輔助說明生產的過程。請問：這本記載中國傳統農業與手工業等生產技術的百科全書，是下列哪一本書？(A)《天工開物》(B)《夢溪筆談》(C)《資治通鑑》(D)《本草綱目》。
- 30.阿興是明朝初年的士大夫，請問他與當時代的知識分子所面對的政治環境為何？ (A)丞相集國家大權於一身 (B)皇帝以「廷杖」和「文字獄」折辱文人 (C)新舊黨爭造成朝廷分化嚴重 (D)朝廷的基本國策為「強幹弱枝，重文輕武」。
- 31.明朝中期之後，出現種種政治問題，人民生活困苦。為了穩定統治，政府實施「一條鞭法」。請問：下列有關「一條鞭法」的敘述，哪一項是正確的？ (A)為王安石變法的重要政策之一 (B)是一項軍事方面的改革 (C)將田賦與力役合併，按畝徵銀 (D)提倡軍功，鼓勵耕織，奠定明代強盛的基礎。
- 32.中國自古即以天朝自居，常用「番」來稱呼外族。閩南語的「番薯」、「番麥」都是由外地傳入中國的作物。請問：哪個朝代最早出現番薯、玉米等作物？(A)唐朝 (B)宋朝 (C)元朝 (D)明朝。
- 33.歷史課時，同學們針對清朝的政策來討論，附圖為其情況。請問：同學們討論的問題應該為何？



- (A)薙髮留辮 (B)八股文 (C)錦衣衛 (D)文字獄。
- 34.關於中國歷史上特殊的貿易型態－「朝貢貿易」，下列敘述何者「錯誤」？ (A)明代採用這種國際貿易的形式與外國往來 (B)清代採用這種政策的目的是為了防範倭寇 (C)在這種政策下，外國須接受中國皇帝冊封，才能以進貢名義來華貿易 (D)這種貿易方式延續到清代中期。
- 35.明太祖與明成祖是明朝雄才大略的兩位君主，關於他們兩人的比較，下列敘述何者「錯誤」？ (A)明太祖定都於今南京，明成祖則遷都北京 (B)明太祖修築長城防止北方外患，明成祖則疏通運河以利南北交通 (C)明太祖設置錦衣衛監控臣民，明成祖則增設東廠作為特務機構 (D)明太祖分封諸王而導致骨肉相殘，明成祖則重用宦官擔任內外要職。
- 36.阿興生活在元朝，他在政府的財政部門負責跟經濟相關的工作，主要職務為各地的稅務徵收以及政府的財政規畫。請問：從這些敘述判斷，阿興可能是元代哪個族群的人？ (A)蒙古人 (B)色目人 (C)漢人 (D)南人。
- 37.「靖康之禍」與「靖難之變」都是中國歷史上重要的政治事件，關於這兩個事件的比較，下列敘述何者正確？ (A)靖康之禍屬於內亂，靖難之變屬於外患 (B)兩事件發生時，敵人均曾攻入首都 (C)兩事件發生時，皇帝皆為敵人所俘虜 (D)兩事件發生後，皆使該朝代衰弱或滅亡。

- 38.政府為了使選才更為公平，於是在考試時採取「彌封」、「謄錄」的措施，避免徇私舞弊的情形發生。這樣一來，世家大族的子弟不再占有優勢地位，社會流動也更為快速。請問：這種考試防弊措施最早出現在哪個朝代？(A)唐朝 (B)宋朝 (C)元朝 (D)明朝。
- 39.「全書收有藥物近兩千種，並附插圖一千多幅，對每種藥物的名稱、產地、型態、採集方法、性質、功用和泡製方法等都有詳細的解釋，是十六世紀以前中國藥物學的集大成之作。」請問：這本書的作者應是何人？(A)李時珍 (B)羅貫中 (C)宋應星 (D)曹雪芹。
- 40.小君將被譽為「中國四大名著」的明清小說與其作者的配對，整理成一張表格如下。請問：其中有哪一項組合是正確的？(A)甲 (B)乙 (C)丙 (D)丁。

甲	《紅樓夢》	吳承恩
乙	《水滸傳》	曹雪芹
丙	《三國演義》	羅貫中
丁	《西遊記》	施耐庵

二、素養導向題：每題 2 分，共 20 分

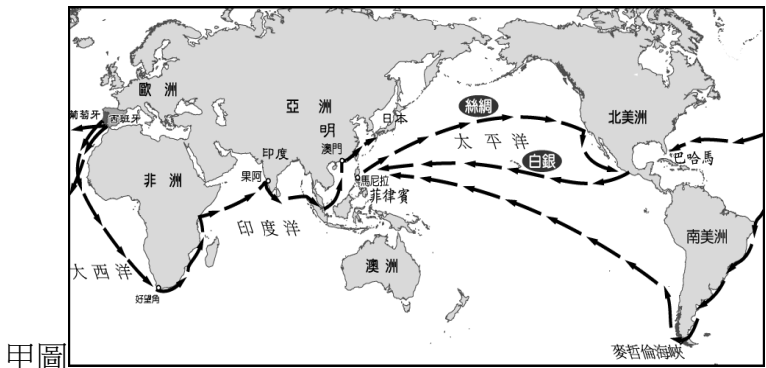
- (一)「這本書是由司馬光主編，共 294 卷，三百萬字，耗時 19 年。記載由周威烈王 23 年三家分晉起，一直到五代的後周世宗顯德 6 年征淮南，計 1362 年。胡三省評價此書：『為人君而不知此書，則欲治而不知自治之源，惡亂而不知防亂之術，為人臣而不知此書，則上無以事君，下無以治民，為人子而不知此書，則謀身必至於辱先，作事不足以垂後。』書中網羅宏富，舉凡國家興衰之跡，生民休戚之事，並寓善可為法，惡可為戒之意，文繁義博，體大思精，此書是皇帝治理國事之借鑑。」請問下列問題：
- 41.「此書是皇帝治理國事之借鑑」，可說是帝王治國的教科書。請問：此書應是下列何者？(A)《史記》(B)《漢書》(C)《資治通鑑》(D)《夢溪筆談》。
- 42.此書的體例應是下列哪一種？(A)紀傳體斷代史 (B)紀傳體通史 (C)編年體斷代史 (D)編年體通史。
- (二)「《時憲曆》是中國歷史上的一部重要曆書。這部曆書制定於明末，是中國曆法史上最後一次大改革。近代以來中國所用的舊曆就是時憲曆，通常叫做農曆。1629 年，欽天監官員用傳統方法推算日食失誤，崇禎帝下令設立「曆局」，由徐光啟主持編修新曆法，徐光啟召請湯若望等四名傳教士參與曆法修訂，於 1629 至 1634 年編撰成《崇禎曆書》。《崇禎曆書》卷帙龐大，總計 137 卷，參考了到當時為止歐洲歷史上幾乎所有重要的天文學著作，系統介紹了西方古典天文學理論和方法。但《崇禎曆書》未及頒行明朝便滅亡了。清朝建立後，湯若望將其刪改至 103 卷，於順治 2 年進呈清廷，順治帝將其更名為《西洋新法曆書》，當即頒行於世。根據它的資料編制的曆書，叫做《時憲曆》。」請問下列問題：
- 43.明末清初，促成中西文化交流的主要橋梁是下列何者？(A)耶穌會傳教士 (B)阿拉伯商人 (C)長老會傳教士 (D)西班牙商人。
- 44.明代晚期，利瑪竇與徐光啟合譯哪一本著作，為傳教士在中國翻譯的第一本著作？(A)《本草綱目》(B)《幾何原本》(C)《天工開物》(D)《夢溪筆談》。

- 45.明末清初以來的中西文化交流，因為某一事件而面臨中斷的困境。請問：這件事指的是下列何者？(A)海禁政策實施 (B)三藩之亂爆發 (C)明朝滅亡 (D)雍正皇帝禁教。
- 46.乾隆皇帝時裁併通商口岸，僅開放何地作為外商貿易的地點，使中西文化交流更趨緩慢？(A)廣州 (B)泉州 (C)杭州 (D)上海。

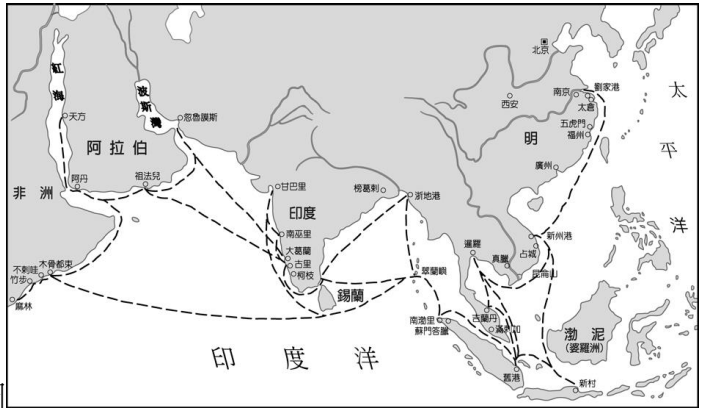
(三)下圖為 13 世紀中國境內的政治形勢，請回答下列問題：



- 47.關於當時諸國之間的關係，下列敘述何者「錯誤」？(A)丙國曾與甲國聯合對抗乙國 (B)丙國曾以歲幣維持與乙國間的和平 (C)甲國實力最為強大，陸續征服所有國家 (D)所有國家滅亡的順序是乙國→丁國→丙國→甲國。
- 48.元朝建立後，原本居住於甲乙丙丁四地的人民，分屬於不同的社會階級，請問：依照甲乙丙丁的順序，這四個階級分別為何？(A)蒙古人、漢人、南人、色目人 (B)蒙古人、色目人、南人、漢人 (C)色目人、蒙古人、漢人、南人 (D)漢人、蒙古人、南人、色目人。
- (四)這是兩幅關於海上航行的歷史地圖，請回答下列問題：



甲圖



乙圖

- 49.這兩幅地圖分別是什麼路線圖？(A)甲圖：鄭和下西洋，乙圖：歐洲人新航路 (B)甲圖：鄭和下西洋，乙圖：阿拉伯人的貿易路線 (C)甲圖：歐洲人新航路，乙圖：蒙古西征 (D)甲圖：歐洲人新航路，乙圖：鄭和下西洋。
- 50.老師上課時在黑板上掛上這兩幅地圖。請問：你認為老師所要講授的主題應是下列何者？(A)文化交流 (B)佛教傳播 (C)歷代戰爭 (D)科技發展。